

ÉVALUATION DIAGNOSTIQUE
DES ÉLÈVES ALLOPHONES

Mathématiques

CYCLE 3

Langue d'origine : turc

SOYAD:

AD:

Matériel nécessaire: crayon, gomme, rapporteur, règle graduée, équerre, compas, crayons vert + rouge.

EXERCICE 1

Hesapla:

$$\begin{array}{r} 297 \\ \times 35 \\ \hline \end{array}$$

MI

MF

MS

TBM

EXERCICE 2

Soruya bak ve cevapla:
 $408 \div 3$

MI

MF

MS

TBM

EXERCICE 3

Soruya bak ve cevapla:
 $164,8 + 26,57$

MI


MF

MS

TBM

EXERCICE 4

Soruya bak ve cevapla:
 $37,9 - 28,72$



MI

MF

MS

TBM

EXERCICE 5

5,4 eşit düşen kesiri işaretle:

$$\frac{54}{100} \quad \frac{9}{10} \quad \frac{54}{10} \quad \frac{4}{5} \quad \frac{5}{4}$$

MI

MF

MS

TBM

EXERCICE 6

Soruyu oku ve doğru cevabı bul.

Paul 43 şeker satın alıyor, Anne'nin 65 şekeri var.
 Anne'nin Paul'den kaç tane daha fazla şekeri var?

Cevap:

.....

MI

MF

MS

TBM

EXERCICE 7

Tamamla.



12 €



..... €



..... €

18 €

.....

MI

MF

MS

TBM

EXERCICE 8

Örneğe bak:

örnek:

Şeritlerin $\frac{7}{10}$ u gri renge boyanmıştır.

a) Örnekte gösterildiği gibi kesir kullanarak cümleyi tamamla:



Şeritlerin u gri renge boyanmıştır.

b) Şeritlerin $\frac{3}{4}$ nu gri renge boya.

MI

MF

MS

TBM

EXERCICE 9

Sayıları küçükten büyüğe doğru sırala:

3,2 3,01 3,235 3,026

.....

MI

MF

MS

TBM

EXERCICE 10

Şeritlerin $\frac{1}{3}$ nu gri renge boy.

--	--	--	--	--	--

MI

MF

MS

TBM

EXERCICE 11

Soruya bak ve cevapla:

49,7 x 3,6

MI

MF

MS

TBM

EXERCICE 12

Doğru cevabı isaretle:

- $\frac{1}{4} =$
- 1,4
 - 4
 - 0,25

MI

MF

MS

TBM

EXERCICE 13

20 yumurta her biri 6sar yumurta alan kutulara koyulacaktır.

a) Kaç kutu tamamen dolar?

.....

b) Kaç yumurta kutuların dışında kalır?

.....

MI

MF

MS

TBM

EXERCICE 14

Eşitlikleri tamamla:

1,5 kg = g

30 dak = saat

5 dak = saniye

380 cl = l

2,3 km = m

MI

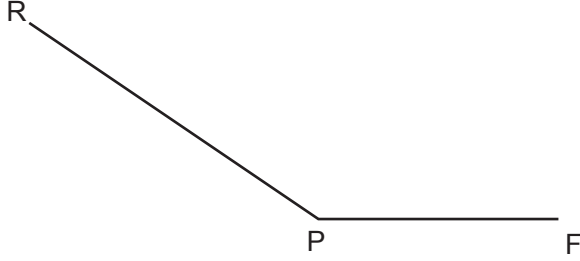
MF

MS

TBM

EXERCICE 15

Aşağıdaki açıyı ölçün:



MI

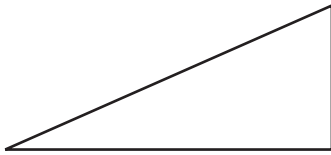
MF

MS

TBM

EXERCICE 16

Her şeklin ismini işaretle.

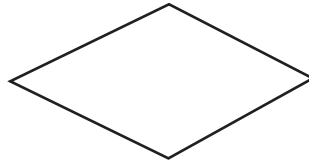


Ikiz kenar üçgen

Dik üçgen

Eşkenar dörtgen

Eşkenar üçgen

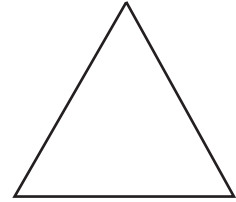


Üçgen

Dikdörtgen

Küp

Eşkenar dörtgen



Eşkenar üçgen

Paralelkenar

Dik üçgen

Eşkenar dörtgen

MI

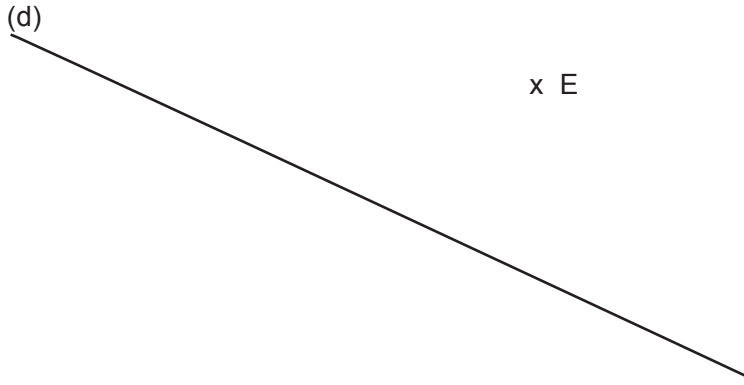
MF

MS

TBM

EXERCICE 17

E noktasından geçen (d) düz çizgiye göre yeşil renkte bir dikey çizgi yap, sonra E noktasından geçen (d) düz çizgiye göre kırmızı renkte bir paralel çizgi yap.



MI

MF

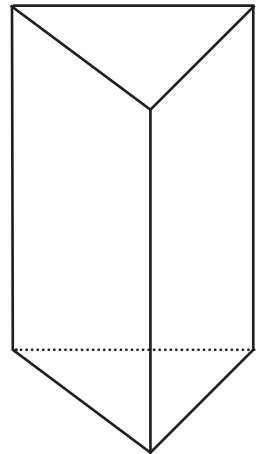
MS

TBM

EXERCICE 18

Yandaki resimden itibaren şu cümleyi tamamla:

Bu katının yüzü, kenarı ve köşesi var.



MI

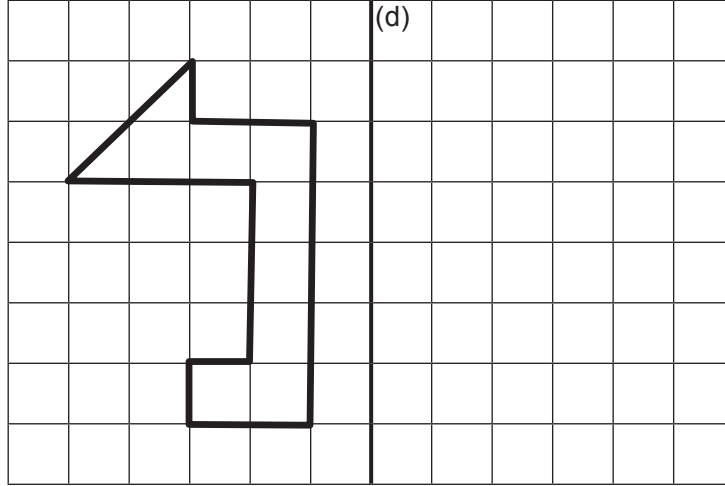
MF

MS

TBM

EXERCICE 19

(d) düz çizgiye göre bir simetrik şekil çiz.



MI

MF

MS

TBM

EXERCICE 20

EFG harflerinden oluşan, E'le ve F'nin mesafesi 8 santimetre,
F'le ve G'nin mesafesi 6 santimetre olacak şekilde bir üçgen çiz.

MI

MF

MS

TBM