

ÉVALUATION DIAGNOSTIQUE
DES ÉLÈVES ALLOPHONES

Mathématiques

CYCLE 3

Langue d'origine : roumain

EXERCICE 4

Efectueaza:
37,9 – 28,72

MI MF MS TBM

EXERCICE 5

Încercuiește fracțiunea egala cu 5,4:

$$\frac{54}{100} \quad \frac{9}{10} \quad \frac{54}{10} \quad \frac{4}{5} \quad \frac{5}{4}$$

MI MF MS TBM

EXERCICE 6

Cititi enuntul problemei si gasiti raspunsul potrivit.

Paul cumpara 43 bomboane. Ana are 65 bomboane.
Câte bomboane are Ana în plus fata de Paul?

Răspuns:

.....

MI MF MS TBM

EXERCICE 7

Completeaza.



12 €



..... €



..... €

18 €

.....

MI MF MS TBM

EXERCICE 8

Uita-te la exemplul urmator:

Eemplu:



Am colorat cu gri $\frac{7}{10}$ din banda.

a) Finalizeaza fraza cu o fracsiune, a cum se vede în exemplu:



Am colorat cu gri din banda.

b) Coloreaza $\frac{3}{4}$ din banda.



MI MF MS TBM

EXERCICE 9

Pune în ordine numerele de la cel mai mic la cel mai mare:

3,2 3,01 3,235 3,026

.....

MI MF MS TBM

EXERCICE 10

Coloreaza $\frac{1}{3}$ din banda.

--	--	--	--	--	--

MI MF MS TBM

EXERCICE 11

Efectueaza:
 $49,7 \times 3,6$



MI MF MS TBM

EXERCICE 12

Încercuiește răspunsul corect:

- $\frac{1}{4} =$
- 1,4
 - 4
 - 0,25

MI MF MS TBM

EXERCICE 13

Trebuie să aranjezi 20 de ouă în cutii de 6 locuri.

a) Câte cutii vor fi umplute întregime?

.....

b) Câte ouă rămân ?

.....

MI MF MS TBM

EXERCICE 14

Completează egalitățile:

1,5 kg = g

30 min = h

5 min = s

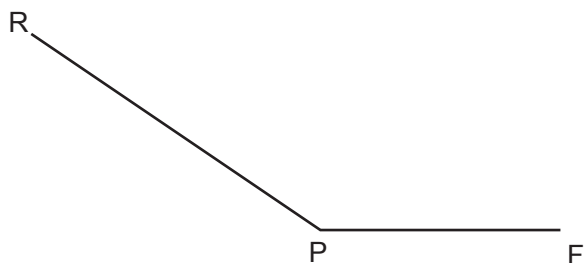
380 cl = l

2,3 km = m

MI MF MS TBM

EXERCICE 15

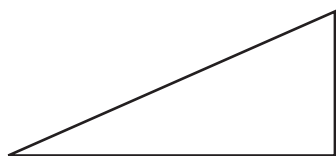
Masoara unghiul următor:



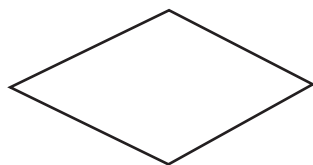
MI MF MS TBM

EXERCICE 16

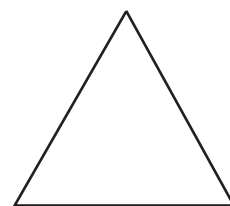
Încercuiește numele fiecărei figuri.



triunghi isoscel
 triunghi dreptunghic
 romb
 triunghi echilateral



triunghi
 dreptunghi
 cub
 romb



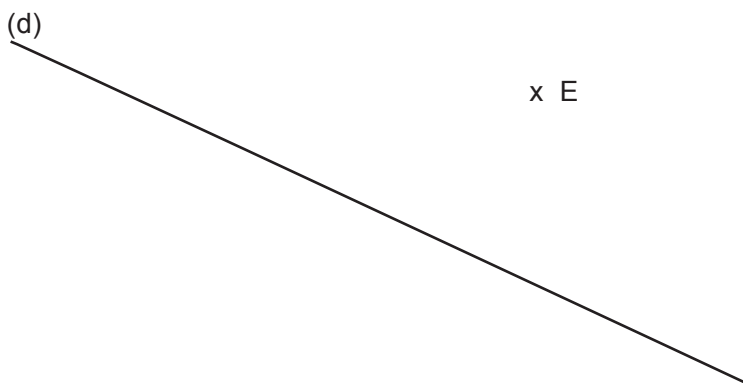
triunghi echilateral
 paralelogram
 triunghi dreptunghic
 romb

MI MF MS TBM

EXERCICE 17

Pe desenul următor, trasează în verde o perpendiculară pe dreapta (d) făcând-o să treacă prin punctul E.

După aceasta, trasează în roșu o paralela pe dreapta trecând prin punctul E.

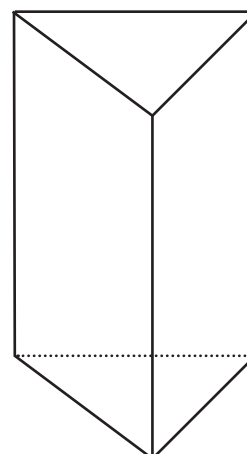


MI MF MS TBM

EXERCICE 18

Plecând de la figura alăturată, completează fraza următoare:

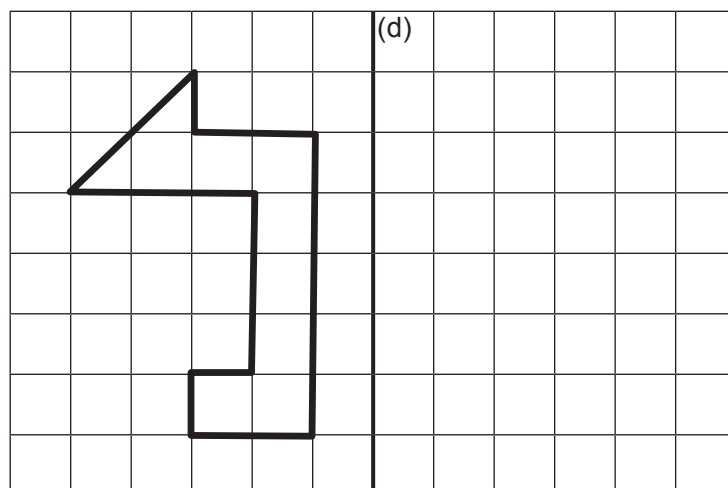
Această figură are fete, muchii și vârfuri..



MI MF MS TBM

EXERCICE 19

Trasează simetricul acestei figuri prin legătură cu dreapta.



MI

MF

MS

TBM

EXERCICE 20

Trasează un triunghi EFG cu măsurile următoare:

$EF = 8 \text{ cm}$, $FG = 6 \text{ cm}$, $GE = 5 \text{ cm}$.

MI

MF

MS

TBM