

ÉVALUATION DIAGNOSTIQUE
DES ÉLÈVES ALLOPHONES

Mathématiques

CYCLE 3

Langue d'origine : polonais

NAWISKO:

IMIĘ:

Matériel nécessaire : crayon, gomme, rapporteur, règle graduée, équerre, compas, crayons vert + rouge.

EXERCICE 1

Oblicz:

$$\begin{array}{r} 297 \\ \times 35 \\ \hline \end{array}$$

MI

MF

MS

TBM

EXERCICE 2

Oblicz sposobem pisemnym:
 $408 \div 3$

MI

MF

MS

TBM

EXERCICE 3

Oblicz sposobem pisemnym:
 $164,8 + 26,57$

MI

MF

MS

TBM

EXERCICE 4

Oblicz sposobem pisemnym:
 $37,9 - 28,72$



MI

MF

MS

TBM

EXERCICE 5

Otocz kółkiem ułamek równy liczbie 5,4:

$$\frac{54}{100} \quad \frac{9}{10} \quad \frac{54}{10} \quad \frac{4}{5} \quad \frac{5}{4}$$

MI

MF

MS

TBM

EXERCICE 6

Przeczytaj treść zadania i znajdź prawidłową odpowiedź.

Pawet kupił 43 cukierki. Anna ma 65 cukierków.

O ile więcej cukierków ma Anna niż pawet?

Odpowiedź:

.....

MI

MF

MS

TBM

EXERCICE 7

Uzupełnij:



12 €



..... €



..... €

18 €

.....

MI MF MS TBM

EXERCICE 8

Obserwuj przykład:

Przykład:



Zakreskowano na szaro $\frac{7}{10}$ paska.

a) Uzupełnij zdanie za pomocą ułamka, jak w przykładzie:



Zakreskowano na szaro paska.

b) Pokoloruj $\frac{3}{4}$ paska.



MI MF MS TBM

EXERCICE 9

Uporzadkuj rosnąco:

3,2 3,01 3,235 3,026

.....

MI

MF

MS

TBM

EXERCICE 10

Pokoloruj $\frac{1}{3}$ paska.

--	--	--	--	--	--

MI

MF

MS

TBM

EXERCICE 11

Oblicz sposobem pisemnym:

49,7 x 3,6

MI

MF

MS

TBM

EXERCICE 12

Zakreśl prawidłową odpowiedź:

- $\frac{1}{4} =$
- 1,4
 - 4
 - 0,25

MI MF MS TBM

EXERCICE 13

Trzeba ułożyć 20 jajek po 6 sztuk do jednego pudełka.

a) Trzeba ułożyć 20 jajek po 6 sztuk do jednego pudełka.

.....

b) Ile jajek zostanie w niepełnym pudełku?

.....

MI MF MS TBM

EXERCICE 14

Uzupełnij równania:

1,5 kg = g

30 min = godz

5 min = s

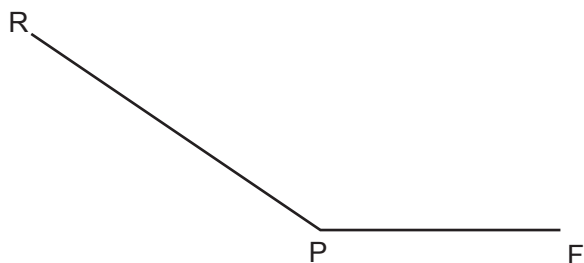
380 cl = l

2,3 km = m

MI MF MS TBM

EXERCICE 15

Zmierz poniższy kąt:



MI

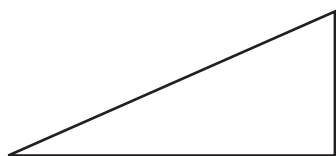
MF

MS

TBM

EXERCICE 16

Otocz kołem nazwę każdej figury.

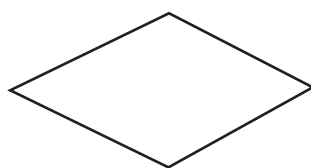


trójkąt równoramienny

trójkąt prostokątny

romb

trójkąt równoboczny

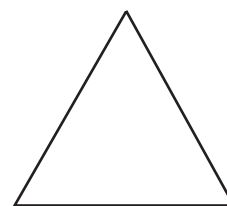


trójkąt

prostokąt

sześcián

romb



trójkąt równoboczny

równoległobok

trójkąt prostokątny

romb

MI

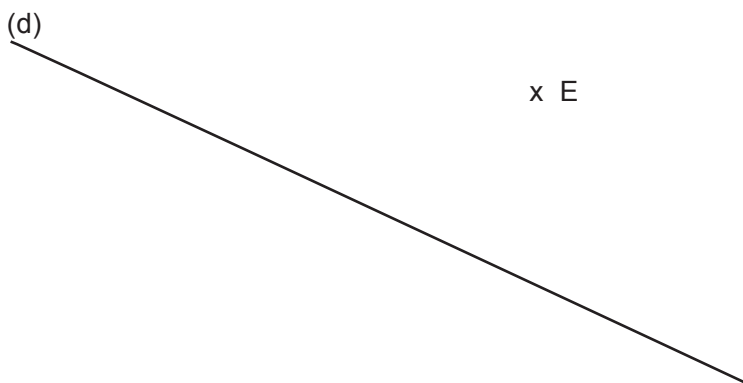
MF

MS

TBM

EXERCICE 17

Narysuj poniżej : zieloną kredką prostą prostopadłą do prostej (d) przechodzącą przez punkt E; następnie czerwoną kredką prostą równoległą do prostej (d) przechodzącą przez punkt E.

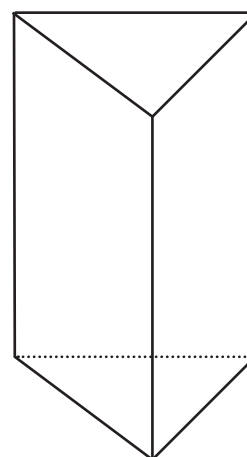


MI MF MS TBM

EXERCICE 18

Patrząc na przedstawioną obok figurę, uzupełnij poniższe zdanie:

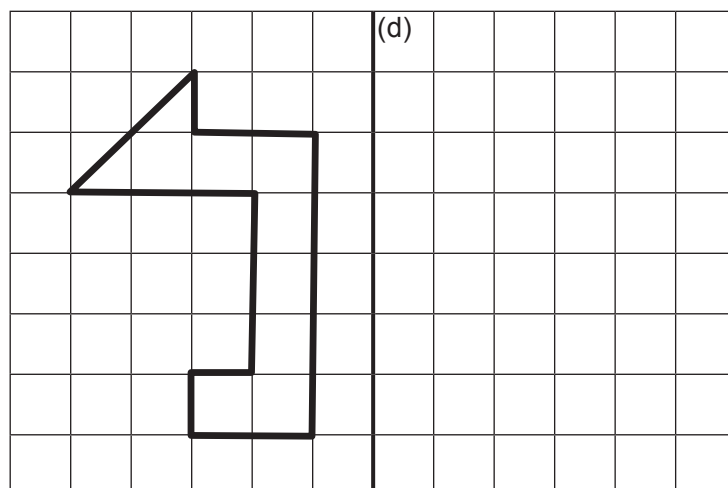
Ta bryła ma ścian, krawędzi i wierzchołków.



MI MF MS TBM

EXERCICE 19

Narysuj figurę symetryczną w stosunku do osi symetrii (d).



MI

MF

MS

TBM

EXERCICE 20

Narysuj poniżej trójkąt EFG o wymiarach:

$EF = 8 \text{ cm}$, $FG = 6 \text{ cm}$, $GE = 5 \text{ cm}$.

MI

MF

MS

TBM