

ÉVALUATION DIAGNOSTIQUE
DES ÉLÈVES ALLOPHONES

Mathématiques

CYCLE 3

Langue d'origine : espagnol

APELLIDO:

NOMBRE:

Matériel nécessaire : crayon, gomme, rapporteur, règle graduée, équerre, compas, crayons vert + rouge.

EXERCICE 1

Calcula:

$$\begin{array}{r} 297 \\ \times 35 \\ \hline \end{array}$$

MI

MF

MS

TBM

EXERCICE 2

Escribe y efectúa la operación:

$$408 \div 3$$

MI

MF

MS

TBM

EXERCICE 3

Escribe y efectúa la operación:

$$164,8 + 26,57$$

MI


MF

MS

TBM

EXERCICE 4

Escribe y efectúa la operación:
 $37,9 - 28,72$



MI MF MS TBM

EXERCICE 5

Rodea la fracción equivalente a 5,4:

$$\frac{54}{100} \quad \frac{9}{10} \quad \frac{54}{10} \quad \frac{4}{5} \quad \frac{5}{4}$$

MI MF MS TBM

EXERCICE 6

Lee el enunciado del problema y descubre la respuesta correcta.

Pablo compra 43 caramelos. Ana tiene 65 caramelos.
¿Cuántos más caramelos tiene Ana que Pablo ?

Respuesta:

.....

MI MF MS TBM

EXERCICE 7

Completa.



12 €



..... €



..... €

18 €

.....

MI MF MS TBM

EXERCICE 8

Observa el ejemplo:

Ejemplo:



Se han coloreado en gris $\frac{7}{10}$ de la tira.

a) Completa la frase utilizando una fracción, como en el ejemplo:



Se han coloreado en gris de la tira.

b) Colorea los $\frac{3}{4}$ de la tira.



MI MF MS TBM

EXERCICE 9

Ordena de menor a mayor:

3,2 3,01 3,235 3,026

.....

MI MF MS TBM

EXERCICE 10

Colorea los $\frac{1}{3}$ de la tira.


--	--	--	--	--	--

MI MF MS TBM

EXERCICE 11

Escribe y efectúa la operación:

49,7 x 3,6



MI MF MS TBM

EXERCICE 12

Encierra la respuesta correcta:

- $\frac{1}{4} =$
- 1,4
 - 4
 - 0,25

MI MF MS TBM

EXERCICE 13

Se quiere guardar 20 huevos en cajas de 6.

a) ¿Cuántas cajas se llenarán completamente?

.....

b) ¿Cuántos huevos quedan sin guardar?

.....

MI MF MS TBM

EXERCICE 14

Completa con las equivalencias:

1,5 kg = g

30 min = h

5 min = s

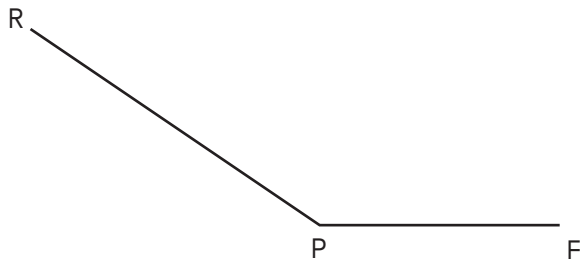
380 cl = l

2,3 km = m

MI MF MS TBM

EXERCICE 15

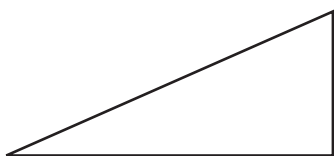
Medir el ángulo de la figura:



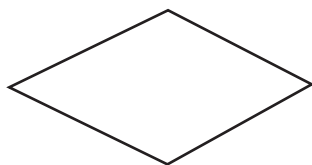
MI MF MS TBM

EXERCICE 16

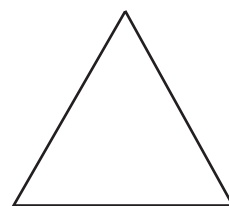
Rodea el nombre de cada figura.



- triángulo isósceles
- triángulo rectángulo
- rombo
- triángulo equilátero



- triángulo
- rectángulo
- cubo
- rombo

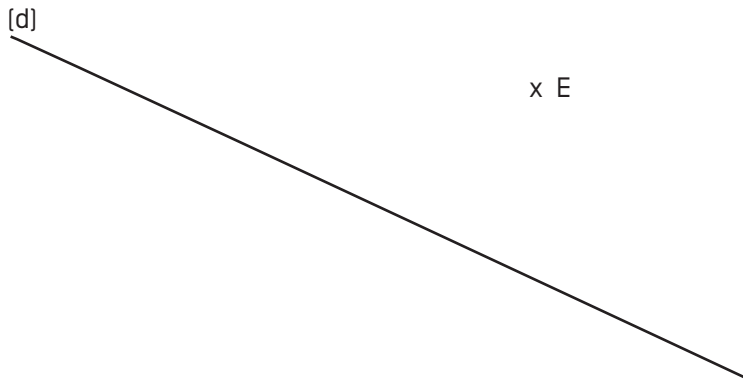


- triángulo equilátero
- paralelogramo
- triángulo rectángulo
- rombo

MI MF MS TBM

EXERCICE 17

Trazar en verde la perpendicular a la recta **[d]** pasando por el punto **E**;
luego trazar en rojo la paralela a la recta **[d]** pasando por el punto **E**.

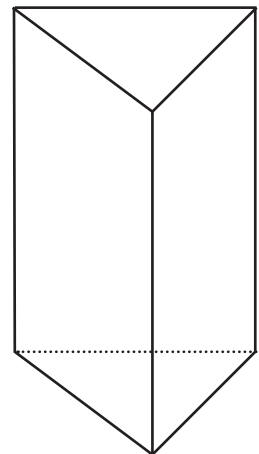


MI MF MS TBM

EXERCICE 18

Observando la figura, completar la frase siguiente:

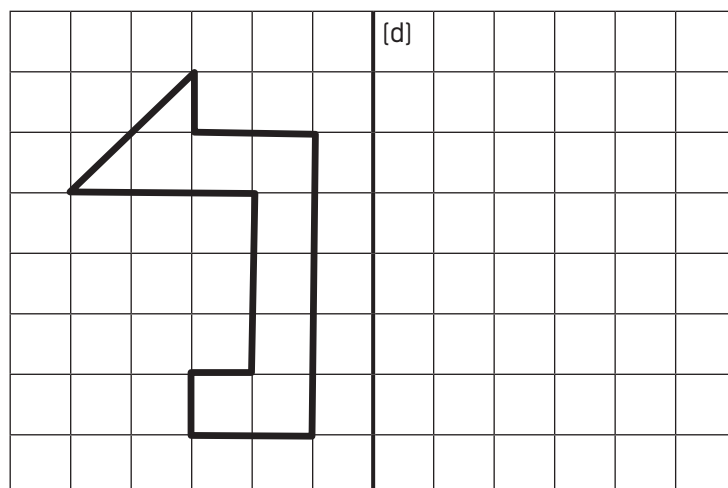
Este cuerpo tiene caras, aristas y vértices.



MI MF MS TBM

EXERCICE 19

Dibujar la figura simétrica en relación con la recta [d].



MI

MF

MS

TBM

EXERCICE 20

Trazar un triángulo EFG con las siguientes medidas:

$EF = 8 \text{ cm}$, $FG = 6 \text{ cm}$, $GE = 5 \text{ cm}$.

MI

MF

MS

TBM