

ÉVALUATION DIAGNOSTIQUE
DES ÉLÈVES ALLOPHONES

Mathématiques

CYCLE 3

Langue d'origine : bulgare

ФАМИЛИЯ:

ИМЕ:

Matériel nécessaire : crayon, gomme, rapporteur, règle graduée, équerre, compas, crayons vert + rouge.

EXERCICE 1

Изчисли:

$$\begin{array}{r} 297 \\ \times 35 \\ \hline \end{array}$$

MI

MF


MS

TBM

EXERCICE 2

Пресметни:

$$408 \div 3$$



MI

MF


MS

TBM

EXERCICE 3

Пресметни:

$$164,8 + 26,57$$



MI


MF

MS

TBM

EXERCICE 4

Пресметни:
 $37,9 - 28,72$



MI MF MS TBM

EXERCICE 5

Огради дробното число, равно на 5,4:

$$\frac{54}{100} \quad \frac{9}{10} \quad \frac{54}{10} \quad \frac{4}{5} \quad \frac{5}{4}$$

MI MF MS TBM

EXERCICE 6

Прочети задачата и намери верния отговор

Пол купува 43 бонбона. Ан има 65 бонбона.
 Колко бонбона има Ан повече от Пол ?

Отговор:

.....

MI MF MS TBM

EXERCICE 7

Попълнете.



12 €



..... €



..... €

18 €

.....

MI MF MS TBM

EXERCICE 8

Наблюдавайте примера:

Пример:



Оцветили сме в сиво $\frac{7}{10}$ от линията.

а) Попълнете фразата, използвайки дробно число, както е по примера:



Оцветили сме в сиво от линията.

б) Оцветете $\frac{3}{4}$ от линията.



MI MF MS TBM

EXERCICE 9

Подреди от най-малкото до най-голямото:

3,2 3,01 3,235 3,026

.....

MI MF MS TBM

EXERCICE 10

Оцветете $\frac{1}{3}$ от линията.

--	--	--	--	--	--

MI MF MS TBM

EXERCICE 11

Пресметни:
49,7 x 3,6

MI MF MS TBM

EXERCICE 12

Очертай с кръгче верния отговор:

- $\frac{1}{4} =$
- 1,4
 - 4
 - 0,25

MI MF MS TBM

EXERCICE 13

Искаме да разпределим 20 яйца в кутии по 6.

а) Колко кутии ще бъдат изцяло пълни?

.....

б) Колко яйца ще останат неразпределени?

.....

MI MF MS TBM

EXERCICE 14

Попълни липсващите цифри:

1,5 кг = г

30 мин. = ч

5 мин. = сек.

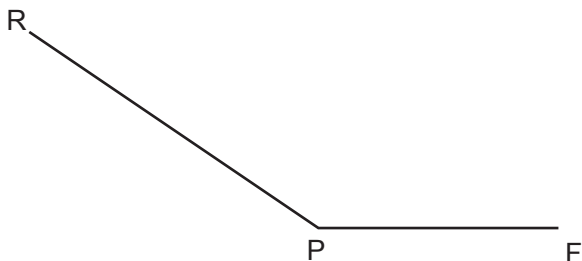
380 сл = л

2,3 км = м

MI MF MS TBM

EXERCICE 15

Измерете ъгъла по-долу:



MI

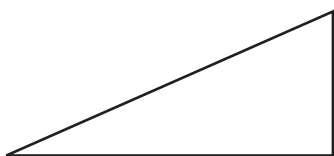
MF

MS

TBM

EXERCICE 16

Оградете името на всяка фигура.

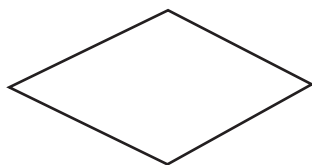


равнобедрен триъгълник

правоъгълен триъгълник

ромб

равностранен триъгълник

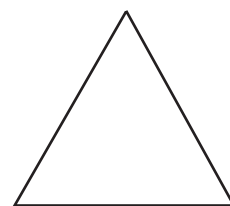


триъгълник

правоъгълник

куб

ромб



равностранен триъгълник

успоредник

правоъгълен триъгълник

ромб

MI

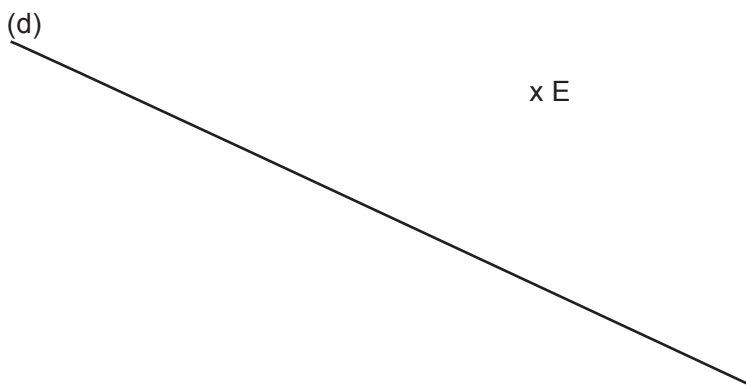
MF

MS

TBM

EXERCICE 17

Начертайте в зелено перпендикулярна на правата (d), преминавайки през точк E; след това начертайте в червено паралела на правата (d), пресичайки точка E.

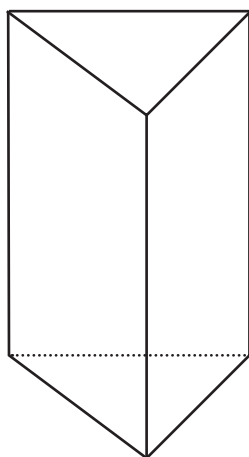


MI MF MS TBM

EXERCICE 18

Разгледай фигурата и попълни следното изречение:

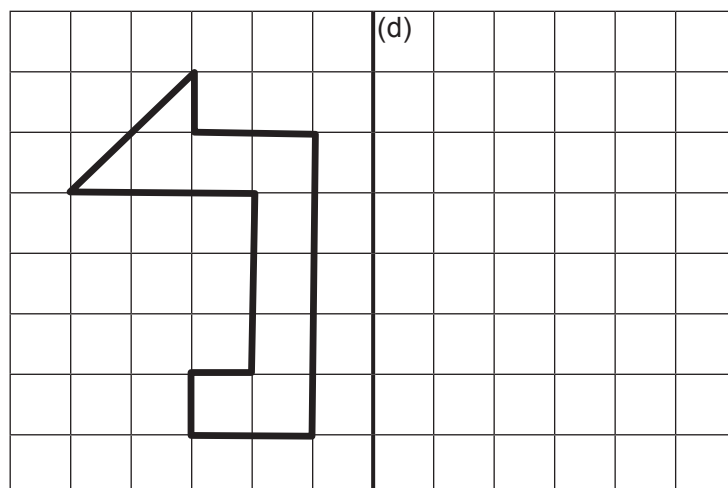
Това геометрично тяло има стени, ръба и върха.



MI MF MS TBM

EXERCICE 19

Начертайте симетрична фигура на дадента по-долу, от дясната страна на (d).



MI

MF

MS

TBM

EXERCICE 20

Начертайте по-долу триъгълник EFG, като страна EF=8 см, страна FG = 6 см и GE = 5 см.

MI

MF

MS

TBM