

ÉVALUATION DIAGNOSTIQUE  
DES ÉLÈVES ALLOPHONES

---

# Mathématiques

---

FIN DE CYCLE 2

Langue d'origine : turc

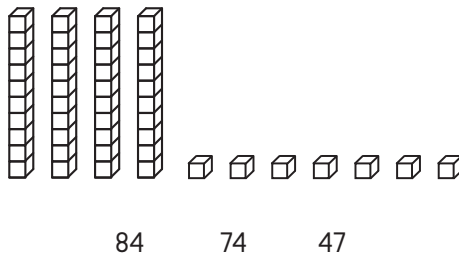
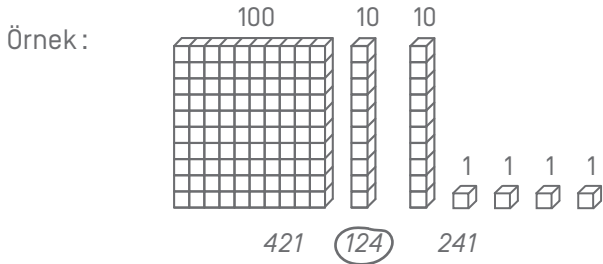
SOYAD :

AD :

Matériel nécessaire : crayon, gomme, règle graduée, équerre, compas.

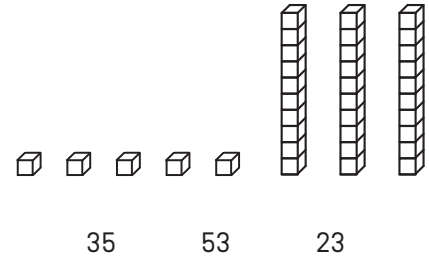
**EXERCICE 1**

Örnekte gösterildiği gibi, uygun düşen sayıyı işaretle.



74

47



53

23

MI

MF

MS

TBM

**EXERCICES 2 ET 3**

Soruyu oku ve doğru cevabi isaretle :

**EX. 2**

Tom'un 14 tane kırmızı ve 16 tane mavi topu var.  
Tom'un toplam kaç tane topu var ?

16 - 14

14 + 14

16 + 14

16 + 16

MI

MF

MS

TBM

**EX. 3**

Sınıfta 29 öğrenci var, bunun 15 tanesi erkek.  
Bu durumda sınıfta kaç tane kız vardır ?

29 - 15

15 + 29

29 + 15

29 × 15

MI

MF

MS

TBM



**EXERCICE 7**Sayilari küçükten büyüğe doğru sırala :       

.....	.....	.....	.....	.....	.....	.....
-------	-------	-------	-------	-------	-------	-------

MI

MF

MS

TBM

**EXERCICE 8**

Hesapla :

$$\begin{array}{r} 87 \\ - 52 \\ \hline \end{array}$$

$$\begin{array}{r} 512 \\ - 139 \\ \hline \end{array}$$

MI

MF

MS

TBM

**EXERCICE 9**

Hesapla :

$$\begin{array}{r} 32 \\ \times 4 \\ \hline \end{array}$$

$$\begin{array}{r} 75 \\ \times 3 \\ \hline \end{array}$$

MI

MF

MS

TBM

### EXERCICE 10

Problemin açıklamasını oku ve cevabı bul :

- a) Sınıfta 26 öğrenci var. Öğretmen her öğrenciye 4 kitap veriyor.  
Toplamda kaç kitap dağıtılmıştır ?

Cevap: .....

- b) 32 kart 4 oyuncu arasında eşit şekilde bölüşülüyor.  
Her oyuncunun kaç kartı var ?

Cevap: .....

MI MF MS TBM

### EXERCICE 11

BC'nin uzunluğunu ölç :



Cevap: .....

MI MF MS TBM

### EXERCICE 12

Noktadan başlayarak 7 santimetre uzunluğunda bir çizgi çiz :



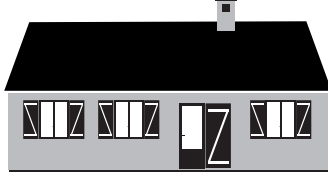
MI MF MS TBM

**EXERCICE 13**

Dogru cevabı işaretle :

Evin uzunluğu :

- 15 kilogram
- 15 metre
- 15 litre




Şişe ne içerir :

- 1 kilometre
- 1 litre
- 1 saat



İneğin ağırlığı :

- 800 metre
- 800 saat
- 800 kilogram



Saat neyi gösterir :

- 10 litre
- 10 euro
- 10:00



MI

MF

MS

TBM

**EXERCICE 14**

Bosluklara eş degerlerini yaz.

4 yıl = ..... ay eder

120 dakika = ..... saat eder

1 kg = ..... gram eder

1 dakika = ..... saniye eder

1 saat = ..... dakika eder

1 metre = ..... santimetre eder

1 km = ..... metre eder

1 litre = ..... santilitre eder

30 metre = ..... santimetre eder

MI

MF

MS

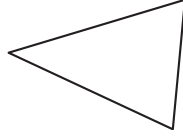
TBM

**EXERCICE 15**

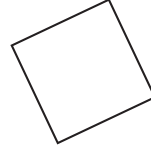
Her şeklin ismini işaretle.



- daire
- kare
- dikdörtgen
- üçgen



- küp
- üçgen
- dikdörtgen
- daire



- dik üçgen
- daire
- kare
- üçgen

MI

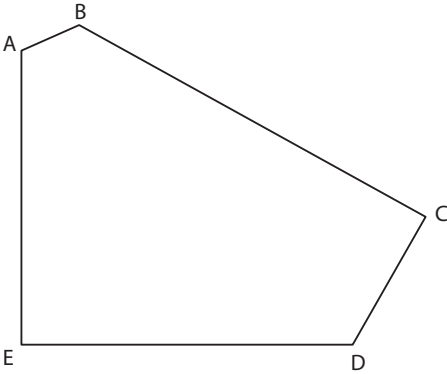
MF

MS

TBM

**EXERCICE 16**

Aşağıdaki Şekile bakarak soruları yanıtla.



a) Bu şeklin kaç kenarı var?

Cevap: .....

b) Bu şeklin kaç zirvesi vardır?

Cevap: .....

c) Bu şeklin kaç tane dik açısı var?

Cevap: .....

MI

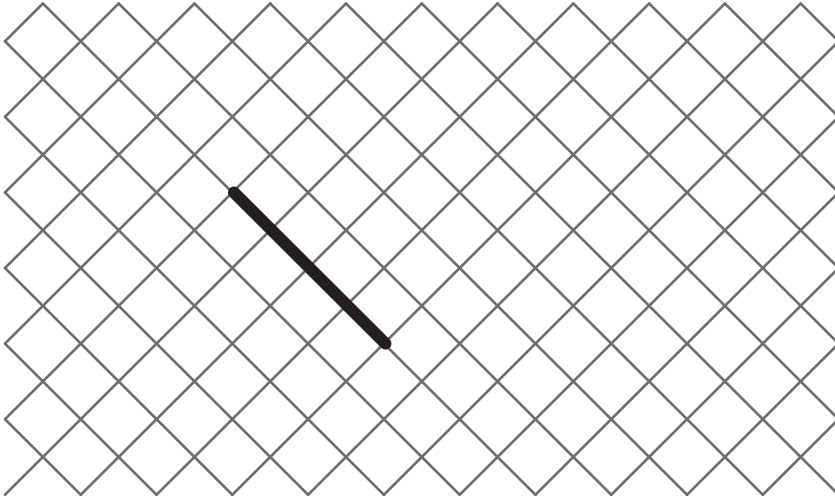
MF

MS

TBM

### EXERCICE 17

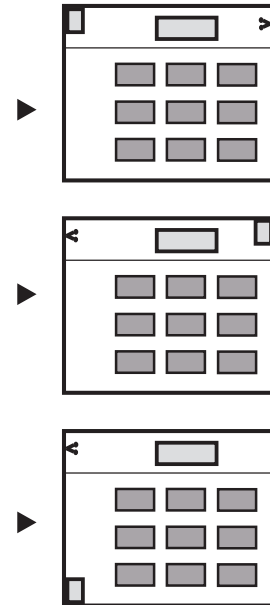

TKenari çizgili olan yerden başlayarak bir kare oluştur.



MI MF MS TBM

### EXERCICE 18

Çizime uyan planı çember içine al.



MI MF MS TBM



### EXERCICE 19

A'yi merkez alarak B'den geçen bir daire çiz.

× **B**

× **A**

MI


MF

MS

TBM

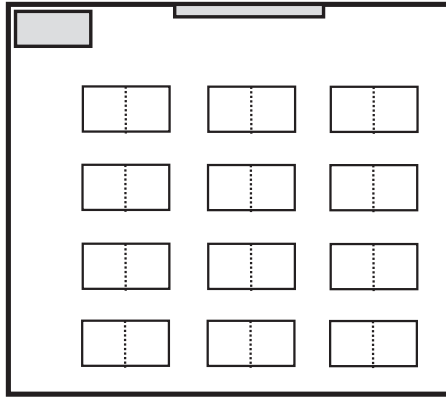
**EXERCICE 20**

Bu sınıfın çizimini dikkatli bir şekilde gözlemle.



a) Renkli plan üzerinde :

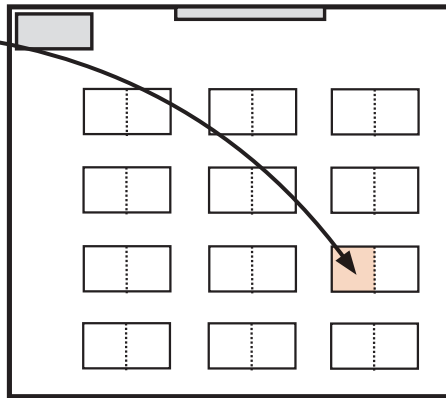
- kırmızı : yazı tahtası
- yeşil : Luc'un masası
- mavi : Anne'ın masası



b) Burada kim oturuyor ?

(Doğru cevabı isaretle)

- Luc
- Catherine
- Anne
- Pierre



MI

MF

MS

TBM