

ÉVALUATION DIAGNOSTIQUE  
DES ÉLÈVES ALLOPHONES

---

# Mathématiques

---

FIN DE CYCLE 2

Langue d'origine : thai

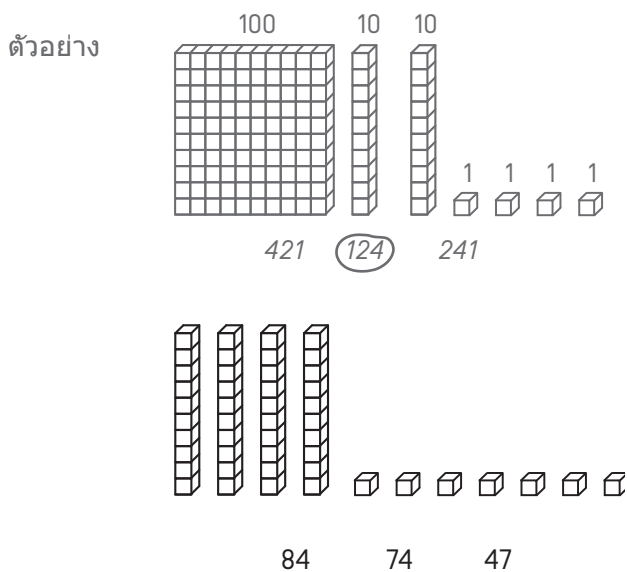
นามสกุล

ชื่อ

Matériel nécessaire crayon, gomme, règle graduée, équerre, compas.

### EXERCICE 1

วงกลมตัวเลขที่สอดคล้องกัน ตามตัวอย่าง



MI

MF

MS

TBM

### EXERCICES 2 ET 3

อ่านโจทย์และวงกลมล้อมรอบคำตอบที่ถูกต้อง

#### EX. 2

ทอมมีลูกโป่งสีแดง 14 ใบ และลูกโป่งสีฟ้า 16 ใบ  
เขาลูกโป่งทั้งหมดกี่ใบ?

16 - 14

14 + 14

16 + 14

16 + 16

#### EX. 3

ในห้องเรียน มีนักเรียน 29 คน. เป็นนักเรียนชาย 15 คน.  
มีนักเรียนหญิงกี่คน?

29 - 15

15 + 29

29 + 15

29 × 15

MI

MF

MS

TBM

MI

MF

MS

TBM



### EXERCICE 7

เรียงลำดับจากน้อยไปหามาก

152   2   14   7   125   41   20

.....	.....	.....	.....	.....	.....	.....
-------	-------	-------	-------	-------	-------	-------

MI MF MS TBM

### EXERCICE 8

คำนวณ

$$\begin{array}{r} 87 \\ - 52 \\ \hline \end{array}$$

$$\begin{array}{r} 512 \\ - 139 \\ \hline \end{array}$$

MI MF MS TBM

### EXERCICE 9

คำนวณ

$$\begin{array}{r} 32 \\ \times 4 \\ \hline \end{array}$$

$$\begin{array}{r} 75 \\ \times 3 \\ \hline \end{array}$$

MI MF MS TBM

---

### EXERCICE 10

#### อ่านโจทย์และหาคำตอบที่ถูกต้อง

a) ในห้องเรียน มีนักเรียน 26 คน ครูให้หนังสือนักเรียนคนละ 4 เล่ม  
ครูให้หนังสือรวมเป็นทั้งหมดกี่เล่ม?

คำตอบ .....

b) ถ้าแบ่งไฟ 32 ไขให้ผู้เล่น 4 คน  
ผู้เล่นแต่ละคนจะได้ไฟกี่ไข?


คำตอบ .....

MI MF MS TBM

---

### EXERCICE 11

#### วัดความยาวของ BC



คำตอบ .....

MI MF MS TBM

---

### EXERCICE 12

#### ลากเส้นยาว 7 ซม. โดยเริ่มต้นจากจุด



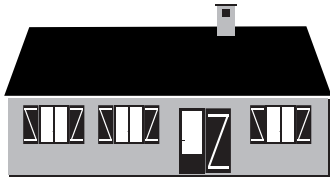
MI MF MS TBM

### EXERCICE 13

#### วงกลมล้อมรอบคำตอบที่ถูกต้อง

ความยาวของบ้านคือ

- 15 กิโลกรัม
- 15 เมตร
- 15 ลิตร




ขวดบรรจุ

- 1 กิโลเมตร
- 1 ลิตร
- 1 ชั่วโมง



วัวมีน้ำหนัก

- 800 เมตร
- 800 ชั่วโมง
- 800 กิโลกรัม



นาฬิกาบอกเวลา

- 10 ลิตร
- 10 ยูโร
- 10 นาฬิกา



MI

MF

MS

TBM

### EXERCICE 14

#### กรอกจำนวนที่เท่ากัน

4 ปี = ..... เดือน

120 นาที = ..... ชม.

1 กก. = ..... ก.

1 นาที = ..... วินาที

1 ชม = ..... นาที

1 ม. = ..... ซม.

1 กม. = ..... ม.

1 ล. = ..... ซล.

30 ม = ..... ซม

MI


MF

MS

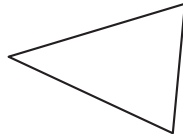
TBM

### EXERCICE 15

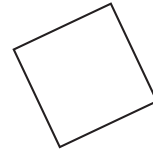
วงกลมล้อมรอบชื่อของแต่ละรูป



- วงกลม
- สี่เหลี่ยมจัตุรัส
- สี่เหลี่ยมผืนผ้า
- สามเหลี่ยม



- ลูกบาศก์
- สามเหลี่ยม
- สี่เหลี่ยมผืนผ้า
- วงกลม

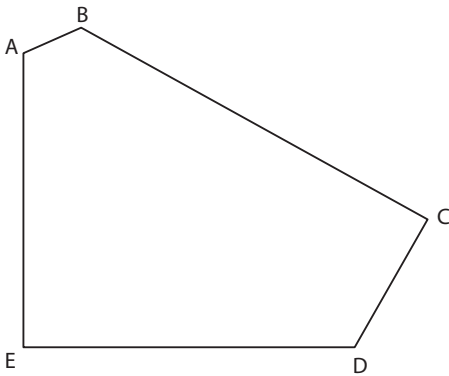


- สามเหลี่ยมมุมฉาก
- วงกลม
- สี่เหลี่ยมจัตุรัส
- สามเหลี่ยม

MI MF MS TBM

### EXERCICE 16

สังเกตรูปทรงเรขาคณิต



a) รูปนี้มีกี่ด้าน?

คำตอบ .....

b) รูปนี้มีกี่จุดยอดมุม?

คำตอบ .....

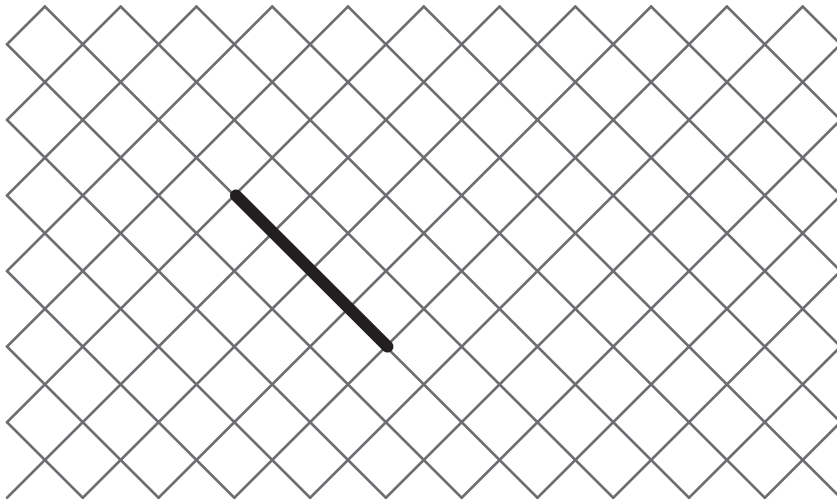
c) รูปนี้มีกี่มุมฉาก?

คำตอบ .....

MI MF MS TBM

### EXERCICE 17

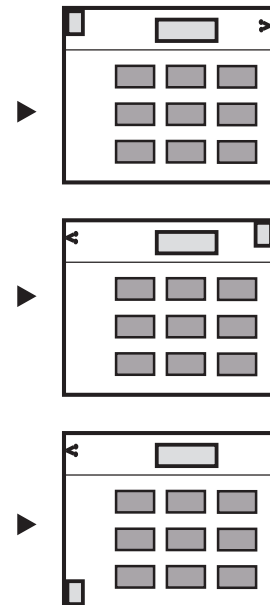

วาดรูปสี่เหลี่ยมจัตุรัส โดยเริ่มด้านที่วาดไว้แล้ว



MI MF MS TBM

### EXERCICE 18

วงกลมล้อมรอบแผนที่ที่ตรงกับภาพ



MI MF MS TBM



---

**EXERCICE 19**

วาดรูปวงกลมล้อมรอบ A โดยให้ผ่านที่ B

× **B**

× **A**

MI


MF

MS

TBM

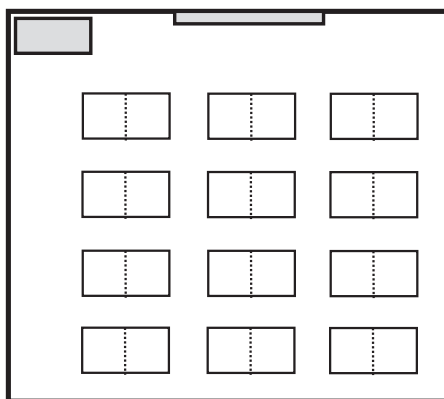
**EXERCICE 20**

**สังเกตภาพวาดของชั้นเรียนนี้**



a) ระบายสีบนแผนที่

- สีแดง ตาราง
- สีเขียว โต๊ะของรุ่ง
- สีฟ้า โต๊ะของแอน



b) ใครนั่งอยู่ที่นี้?  
(วงกลมล้อมรอบคำตอบที่ถูกต้อง)

- รุ่ง
- แคทเธอริน
- แอนน์
- ปิยะ

