

ÉVALUATION DIAGNOSTIQUE
DES ÉLÈVES ALLOPHONES

Mathématiques

FIN DE CYCLE 2

Langue d'origine : serbe

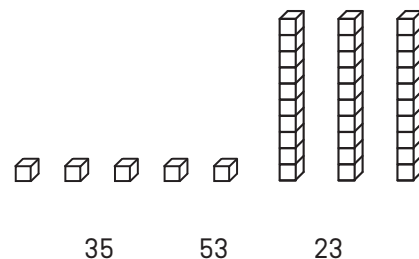
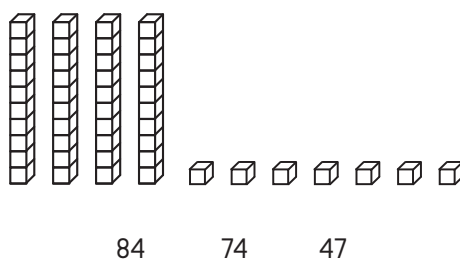
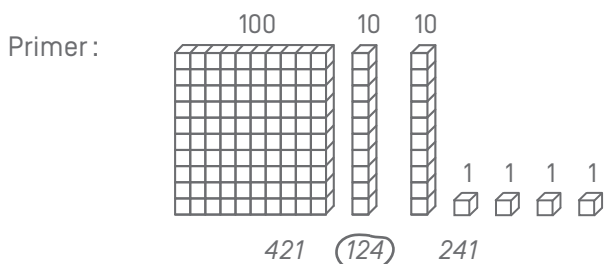
PREZIME :

IME :

Matériel nécessaire : crayon, gomme, règle graduée, équerre, compas.

EXERCICE 1

Zakruži broj koji treba, kao u primeru.



MI MF MS TBM

EXERCICES 2 ET 3

Pročitaj zadatak i zakruži tačan odgovor :

EX. 2

Tom ima 14 crvenih lopti i 16 plavih lopti.
Koliko Tom ukupno ima lopti ?

16 - 14

14 + 14

16 + 14

16 + 16

MI MF MS TBM

EX. 3

U razredu ima 29 učenika. 15 učenika su dečaci.
Koliko ima devojčica ?

29 - 15

15 + 29

29 + 15

29 × 15

MI MF MS TBM

EXERCICE 7

Poređaj od najmanjeg do najvećeg : 152 2 14 7 125 41 20

.....
-------	-------	-------	-------	-------	-------	-------

MI
MF
MS
TBM

EXERCICE 8

Izračunaj :

$$\begin{array}{r}
 87 \\
 - 52 \\
 \hline
 \end{array}$$

$$\begin{array}{r}
 512 \\
 - 139 \\
 \hline
 \end{array}$$

MI
MF
MS
TBM

EXERCICE 9

Izračunaj :

$$\begin{array}{r}
 32 \\
 \times 4 \\
 \hline
 \end{array}$$

$$\begin{array}{r}
 75 \\
 \times 3 \\
 \hline
 \end{array}$$

MI
MF
MS
TBM

EXERCICE 10

Pročitaj zadatak i pronadi rešenje :

- a) U razredu ima 26 učenika. Učiteljica daje 4 knjige svakom učeniku.
Koliko ona ukupno daje knjiga?

Odgovor :


- b) Delimo 32 karte između 4 igrača.
Koliko karata ima svaki igrač ?

Odgovor :

MI MF MS TBM

EXERCICE 11

Izmeri dužinu BC :



Odgovor :

MI MF MS TBM

EXERCICE 12

Iscrtaj liniju dužine 7 centimetara, počev od tačke :



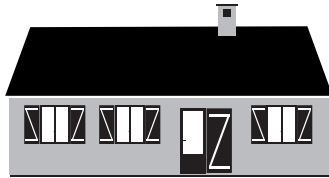
MI MF MS TBM

EXERCICE 13

Zaokruži tačan odgovor :

Dužina kuće je :

- 15 kilograma
- 15 metara
- 15 litara




Boca sadrži :

- 1 kilometar
- 1 litar
- 1 sat



Krava je teška :

- 800 metara
- 800 sati
- 800 kilograma



Sat pokazuje :

- 10 litara
- 10 evra
- 10 sati



MI

MF

MS

TBM

EXERCICE 14

Dopuni odgovarajućim iznosima.

4 godine = meseci

120 min = h

1 kg = g

1 min = s

1 h = min

1 m = cm

1 km = m

1 l = cl

30 m = cm

MI

MF

MS

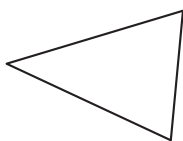
TBM

EXERCICE 15

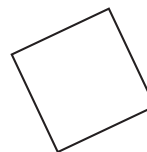
Zaokruži ime svake figure.



- Krug
- Kvadrat
- Pravougaonik
- Trougao



- Kocka
- Trougao
- Pravougaonik
- Krug

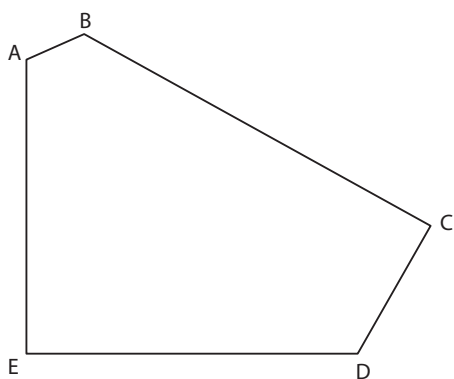


- pravougaoni trougao
- Krug
- Kvadrat
- Trougao

MI MF MS TBM

EXERCICE 16

Posmatraj ovu figuru i dopuni.



a) Koliko stranica ima ova figura ?

Odgovor:

b) Koliko vrhova ima ova figura ?

Odgovor:

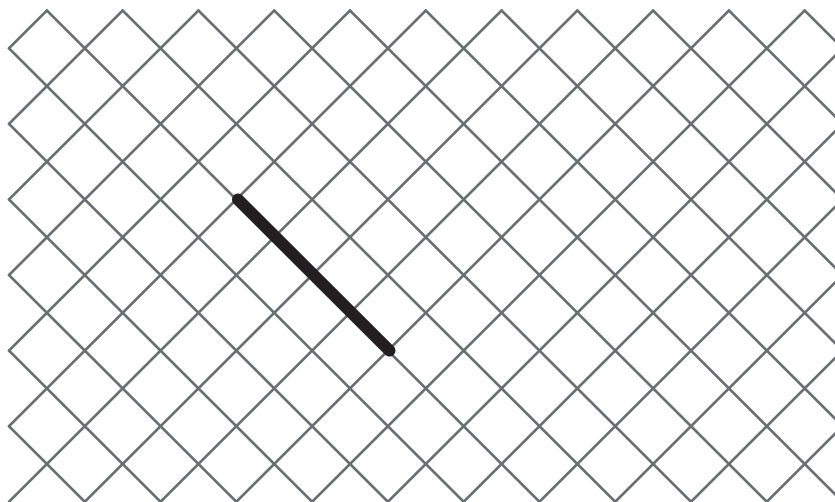
c) Koliko pravih uglova ima ova figura ?

Odgovor:

MI MF MS TBM

EXERCICE 17

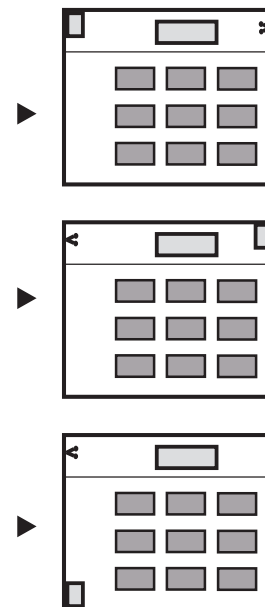

Polazeći od već nacrtane stranice, nacrtaj kvadrat.



MI MF MS TBM

EXERCICE 18

Zaokruži plan koji odgovara crtežu.



MI MF MS TBM

EXERCICE 19

Nacrtaj krug iz centra A koji prolazi kroz B.

× **B**

× **A**

MI


MF

MS

TBM

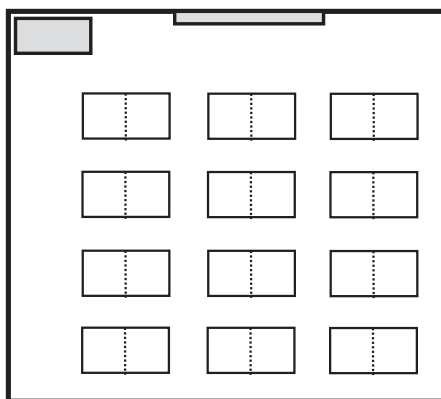
EXERCICE 20

Posmatraj crtež ovog razreda.



a) Na planu oboji :

- u crveno : tablu
- u zeleno : Lukinu klupu
- u plavo : Aninu klupu



b) Ko sedi ovde ?
 (Zaokruži tačan odgovor)

- Luka
- Katarina
- Ana
- Petar

