

ÉVALUATION DIAGNOSTIQUE
DES ÉLÈVES ALLOPHONES

Mathématiques

FIN DE CYCLE 2

Langue d'origine : roumain

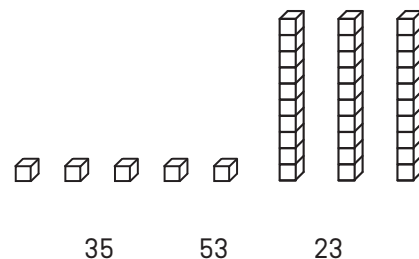
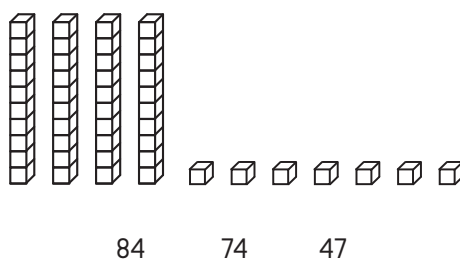
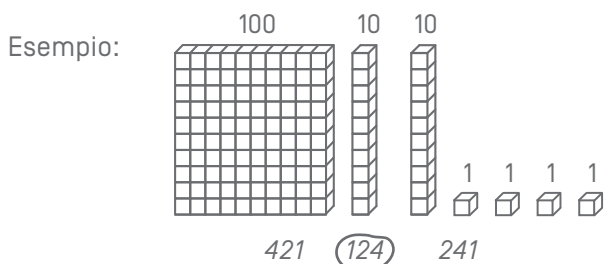
NUME:

PRENUME:

Matériel nécessaire : crayon, gomme, règle graduée, équerre, compas.

EXERCICE 1

Uita-te la exemplul de mai jos i încercuie te numarul corect.



MI MF MS TBM

EXERCICES 2 ET 3

Citete problema i încercuie te raspunsul corect:

EX. 2

Andrei are 14 bile ro i 16 bile albastre.
Câte bile are în total ?

16 - 14

14 + 14

16 + 14

16 + 16

MI MF MS TBM

EX. 3

În clasa sunt 29 elevi. 15 sunt baieti.
Câte fete sunt în clasa ?

29 - 15

15 + 29

29 + 15

29 × 15

MI MF MS TBM

EXERCICE 4

Completează:

Exemplu: $124 = 100 + 20 + 4$

$382 = \dots + \dots + \dots$

$\dots = 500 + 80 + 2$

$\dots = 8 + 700 + 10$

MI

MF

MS

TBM

EXERCICE 5

Calculeaza:

$48 + 31 =$

166
$+ 254$

MI

MF

MS

TBM

EXERCICE 6

Completeaza seria de numere:

150	140	130	50
-----	-----	-----	-------	-------	-------	-------	-------	-------	-------	----

MI

MF

MS

TBM

EXERCICE 7

Pune în ordine numerele de la cel mai mic la cel mai mare:

152 2 14 7 125 41 20

.....
-------	-------	-------	-------	-------	-------	-------

MI MF MS TBM

EXERCICE 8

Calculeaza:

$$\begin{array}{r} 87 \\ - 52 \\ \hline \end{array}$$

$$\begin{array}{r} 512 \\ - 139 \\ \hline \end{array}$$

MI MF MS TBM

EXERCICE 9

Calculeaza:

$$\begin{array}{r} 32 \\ \times 4 \\ \hline \end{array}$$

$$\begin{array}{r} 75 \\ \times 3 \\ \hline \end{array}$$

MI MF MS TBM

EXERCICE 10

Citește enunțul problemei și găsește răspunsul corect:

- a) În clasă sunt 26 de elevi. Doamna învățătoare oferă 4 cărți fiecărui elev.
Câte cărți oferă doamna învățătoare în total

Răspuns:


- b) Se împart 32 de cărți de joc la 4 jucători.
Câte cărți are fiecare jucător ?

Răspuns:

MI MF MS TBM

EXERCICE 11

Măsoară lungimea pentru BC:



Răspuns:

MI MF MS TBM

EXERCICE 12

Trasează un segment de 7 centimetri lungime, pornind din acest punct:



MI MF MS TBM

EXERCICE 13

Încercuie te raspunsul corect.

Lungimea casei este:

- 15 kilograme
- 15 metri
- 15 litri




Sticla con ine:

- 1 kilometru
- 1 litru
- 1 ora



Greutatea vacii este:

- 800 metri
- 800 ore
- 800 kilograme



Ceasul arata:

- 10 litri
- 10 euro
- ora 10



MI MF MS TBM

EXERCICE 14

Completeaza egalitatile.

4 ani = luni

120 min = ore

1 kg = g

1 min = s

1 h = min

1 m = cm

1 km = m


1 l = cl

30 m = cm

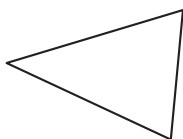
MI MF MS TBM

EXERCICE 15

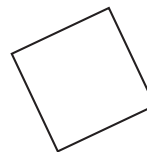
Încercuie te numele fiecărei figuri.



- cerc
- patrat
- dreptunghi
- triunghi



- cub
- triunghi
- dreptunghi
- cerc

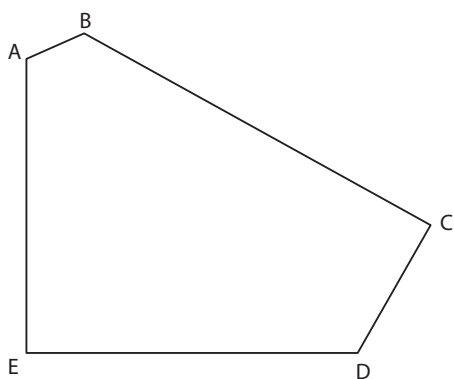


- triunghi dreptunghi
- cerc
- patrat
- triunghi

MI MF MS TBM

EXERCICE 16

Observa figura de mai jos i completeaza.



a) Câte laturi are aceasta figura ?

Răspuns:

b) Câte vârfuri are aceasta figura ?

Răspuns:

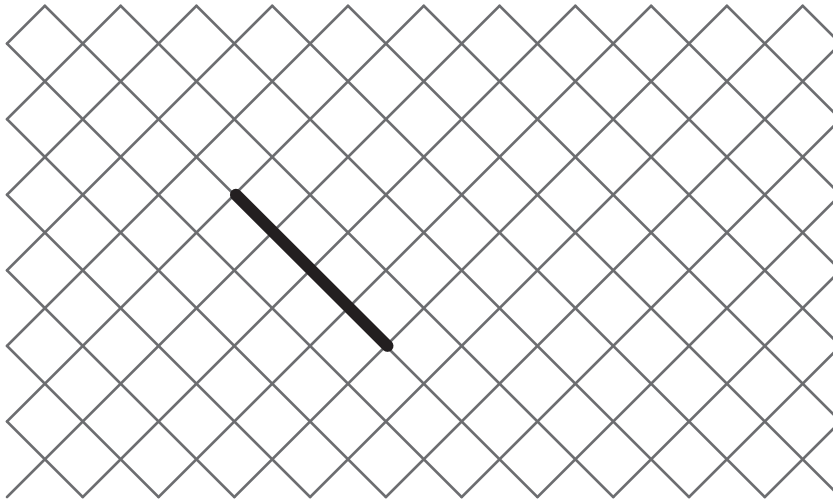
c) Câte unghiuri drepte are aceasta figura ?

Răspuns:

MI MF MS TBM

EXERCICE 17

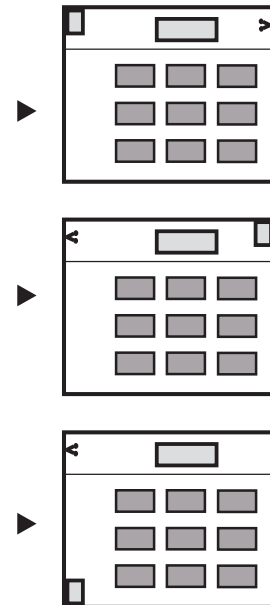

Desenează un pătrat pornind de la latura desenată.



MI MF MS TBM

EXERCICE 18

Încercuiește planul care corespunde desenului.



MI MF MS TBM

EXERCICE 19

Deseneaza un cerc cu centrul în A care trecere prin B.

× **B**

× **A**

MI


MF

MS

TBM

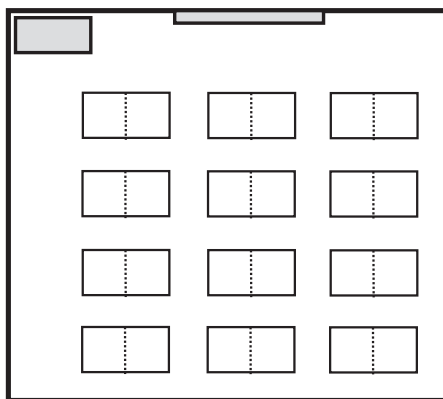
EXERCICE 20

Observă desenul acestei clase.



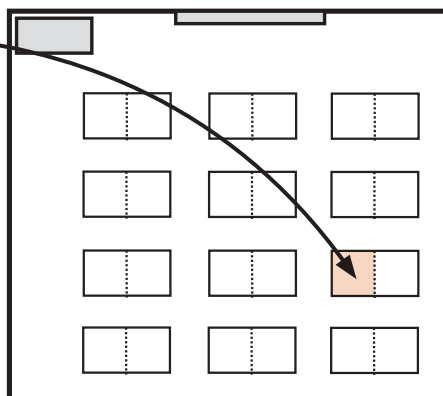
a) Pe plan, colorează:

- cu roșu: tabloul
- cu verde: biroul lui Luc
- cu albastru: biroul Anei



b) Cine este așezat aici?
(Încercuiește răspunsul corect)

- Luc
- Ecaterina
- Ana
- Petru



MI

MF

MS

TBM