

ÉVALUATION DIAGNOSTIQUE
DES ÉLÈVES ALLOPHONES

Mathématiques

FIN DE CYCLE 2

Langue d'origine : monténégrin

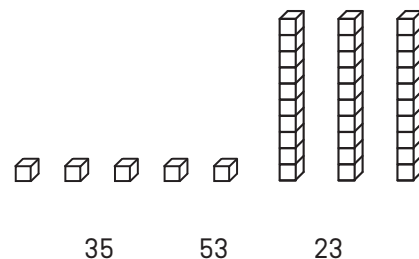
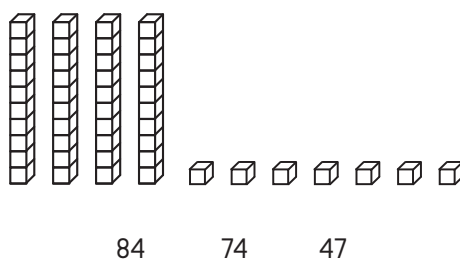
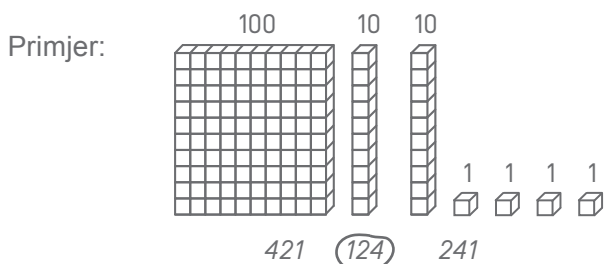
PREZIME:

IME:

Matériel nécessaire : crayon, gomme, règle graduée, équerre, compas.

EXERCICE 1

Zakruži broj koji odgovara, kao u primjeru.



MI MF MS TBM

EXERCICES 2 ET 3

Pročitaj opis problema i zakruži tačan odgovor:

EX. 2

Tomica ima 14 crvenih i 16 plavih balona.
Koliko balona ima ukupno?

16 - 14

14 + 14

16 + 14

16 + 16

MI MF MS TBM

EX. 3

U razredu ima 29 đaka. Petnaest su dječaci.
Koliko ima djevojčica?

29 - 15

15 + 29

29 + 15

29 × 15

MI MF MS TBM

EXERCICE 7

Poređaj od najmanjeg do najvećeg:

152 2 14 7 125 41 20

.....
-------	-------	-------	-------	-------	-------	-------

MI MF MS TBM

EXERCICE 8

Izračunaj:

$$\begin{array}{r} 87 \\ - 52 \\ \hline \end{array}$$

$$\begin{array}{r} 512 \\ - 139 \\ \hline \end{array}$$

MI MF MS TBM

EXERCICE 9

Izračunaj:

$$\begin{array}{r} 32 \\ \times 4 \\ \hline \end{array}$$

$$\begin{array}{r} 75 \\ \times 3 \\ \hline \end{array}$$

MI MF MS TBM

EXERCICE 10

Pročitaj opis problema i pronađi odgovor:

a) U razredu ima 26 đaka. Učiteljica svakom đaku daje 4 knjige.
Koliko ukupno knjiga ona daje?

Odgovor:

b) Dijelimo 32 karte na 4 igrača.
Koliko svaki igrač ima karata?

Odgovor:

MI MF MS TBM

EXERCICE 11

Izmjeri dužinu BC.



Odgovor:

MI MF MS TBM

EXERCICE 12

Nacrtaj pravu liniju dužine 7 cm, počevši od tačke:



MI MF MS TBM

EXERCICE 13

Zaokruži tačan odgovor:

Dužina kuće iznosi:

- 15 kilograma
- 15 metara
- 15 litara




Boca sadrži:

- 1 kilometar
- 1 litar
- 1 sat



Krava je teška:

- 800 metara
- 800 sati
- 800 kilograma



Sat pokazuje:

- 10 litara
- 10 eura
- 10 sati



MI MF MS TBM

EXERCICE 14

Popuni jednakosti:

4 godine = mjeseci

120 min = h

1 kg = g

1 min = s

1 h = min

1 m = cm

1 km = m

1 l = cl

30 m = cm

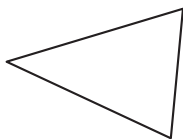
MI MF MS TBM

EXERCICE 15

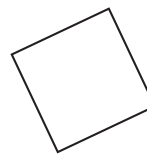
Zaokruži naziv svake figure.



- kružnica
- kvadrat
- pravougaonik
- trougao



- kocka
- trougao
- pravougaonik
- kružnica



- pravougli trougao
- kružnica
- kvadrat
- trougao

MI

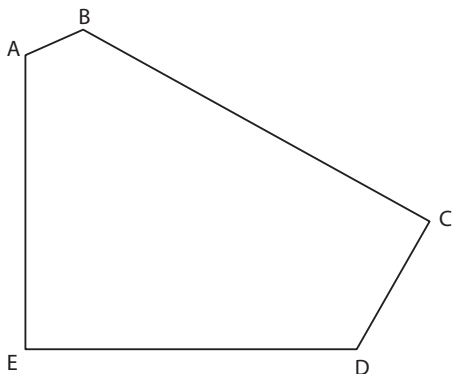
MF

MS

TBM

EXERCICE 16

Pogledaj cijelu figuru:



a) Koliko strana ima ova figura?

Odgovor:

b) Koliko vrhova ima ova figura?

Odgovor:

c) Koliko pravih uglova ima ova figura?

Odgovor:

MI

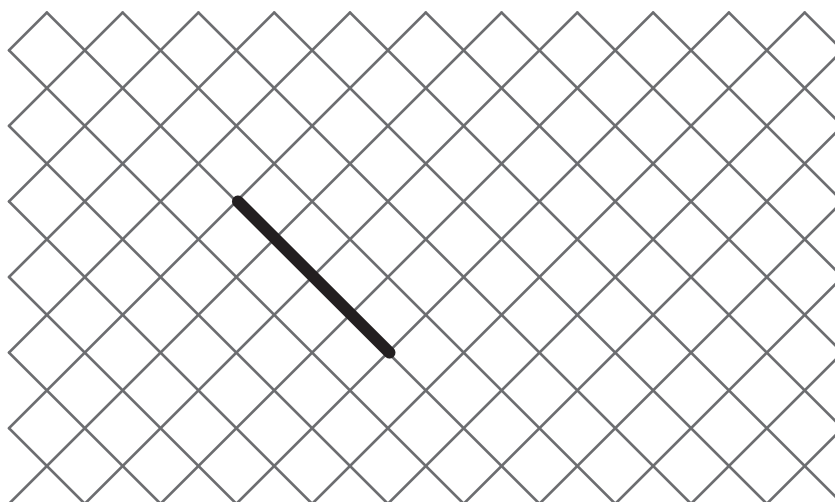
MF

MS

TBM

EXERCICE 17

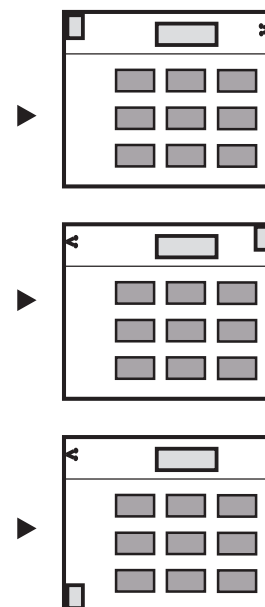

Nacrtaj kvadrat počevši od strane koja je već nacrtana.



MI MF MS TBM

EXERCICE 18

Zakruži plan koji odgovara crtežu.



MI MF MS TBM

EXERCICE 19

Nacrtaj kružnicu iz centra A koja prolazi kroz B

× **B**

× **A**

MI


MF

MS

TBM

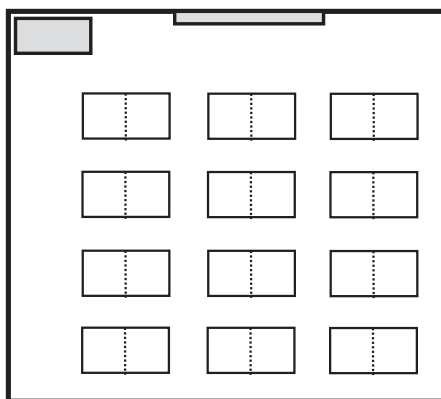
EXERCICE 20

Pogledaj crtež ove učionice.



a) Na planu, oboji:

- crvenom bojom: tablu
- zelenom bojom: Lukin sto
- plavom bojom: Anin sto



b) Ko sjedi ovdje?
(Zaokruži tačan odgovor)

- Luka
- Katarina
- Ana
- Petar

