

ÉVALUATION DIAGNOSTIQUE  
DES ÉLÈVES ALLOPHONES

---

# Mathématiques

---

FIN DE CYCLE 2

Langue d'origine : bulgare

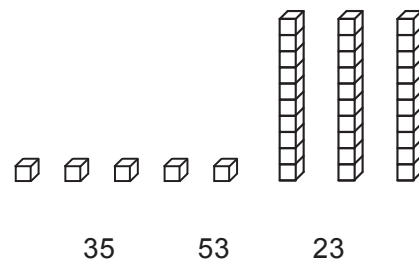
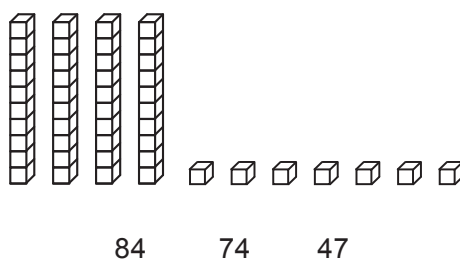
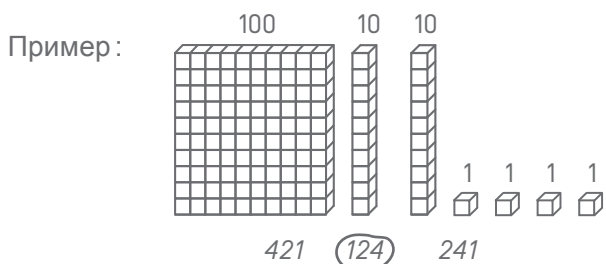
Фамилия:

Име:

Matériel nécessaire : crayon, gomme, règle graduée, équerre, compas.

### EXERCICE 1

Огради подходящото число, по зададения пример.



MI MF MS TBM

### EXERCICES 2 ET 3

Прочети задачата и огради верният отговор:

#### EX. 2

Том има 14 червени топки и 16 сини.  
Колко топки има общо?

16 – 14

14 + 14

16 + 14

16 + 16

MI MF MS TBM

#### EX. 3

В един клас има 29 ученика. 15 ученика  
са момчета. Колко момичета има?

29 – 15

15 + 29

29 + 15

29 × 15

MI MF MS TBM

### EXERCICE 4

Попълни:

Пример:  $124 = 100 + 20 + 4$

$382 = \dots + \dots + \dots$

$\dots = 500 + 80 + 2$

$\dots = 8 + 700 + 10$

MI MF MS TBM

### EXERCICE 5

Изчисли:

$48 + 31 =$

$166$   
 $+ 254$

MI MF MS TBM

### EXERCICE 6

Попълни числата нататък:

150	140	130	.....	.....	.....	.....	.....	.....	.....	50
-----	-----	-----	-------	-------	-------	-------	-------	-------	-------	----

MI MF MS TBM

### EXERCICE 7

Подреди от най-малкото до най-голямото:

152   2   14   7   125   41   20

.....	.....	.....	.....	.....	.....	.....
-------	-------	-------	-------	-------	-------	-------

MI MF MS TBM

### EXERCICE 8

Изчисли:

$$\begin{array}{r} 87 \\ - 52 \\ \hline \end{array}$$

$$\begin{array}{r} 512 \\ - 139 \\ \hline \end{array}$$

MI MF MS TBM

### EXERCICE 9

Изчисли:

$$\begin{array}{r} 32 \\ \times 4 \\ \hline \end{array}$$

$$\begin{array}{r} 75 \\ \times 3 \\ \hline \end{array}$$

MI MF MS TBM

---

### EXERCICE 10

**Прочети условието на задачата и намери отговора:**

a) В класа има 26 ученика. Учителката раздава по 4 книги на всеки ученик.  
Колко общо книги е раздала учителката?

Отговор: .....

b) На 4 играча са раздадени 32 карти.  
Колко карти е получил всеки от играчите?

Отговор: .....

MI MF MS TBM

---

### EXERCICE 11

**Измери дължината на BC:**



Отговор: .....

MI MF MS TBM

---

### EXERCICE 12

**Очертай елемент с дължина 7 сантиметра, като започнеш от точката:**



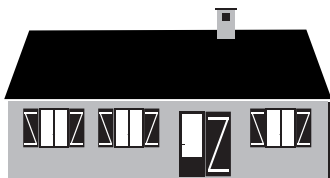
MI MF MS TBM

### EXERCICE 13

Оградете верния Отговор.

Дължината на къщата е:

- 15 килограма
- 15 метра
- 15 литра




Бутилката съдържа:

- 1 километър
- 1 литър
- 1 час



Кравата тежи:

- 800 метра
- 800 часа
- 800 килограма



Часовникът показва:

- 10 литра
- 10 евро
- 10 часа



MI

MF

MS

TBM

### EXERCICE 14

Попълни равенствата.

4 год. = ..... месеца

120 минути = ..... часа

1 кг. = ..... гр.

1 минута = ..... секунди

1 час = ..... минути

1 метър = ..... cm

1 км = ..... метра

1 л = ..... мл

30 m = ..... cm

MI

MF

MS

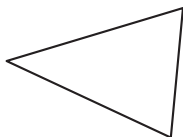
TBM

### EXERCICE 15

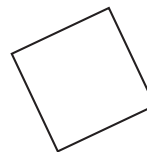
Оградете името на всяка фигура.



- кръг
- квадрат
- правоъгълник
- триъгълник



- куб
- триъгълник
- правоъгълник
- кръг

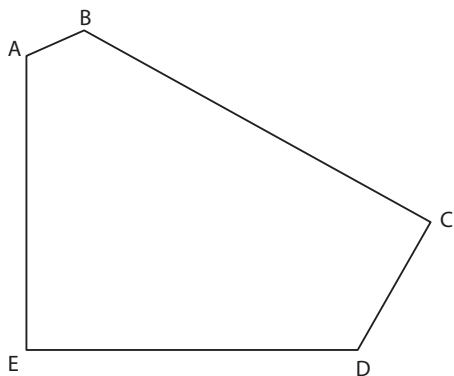


- правоъгълен триъгълник
- кръг
- квадрат
- триъгълник

MI MF MS TBM

### EXERCICE 16

Разгледайте фигурата и попълнете.



a) Колко страни има фигурата?

Отговор: .....

b) Колко са върховете на фигурата?

Отговор: .....

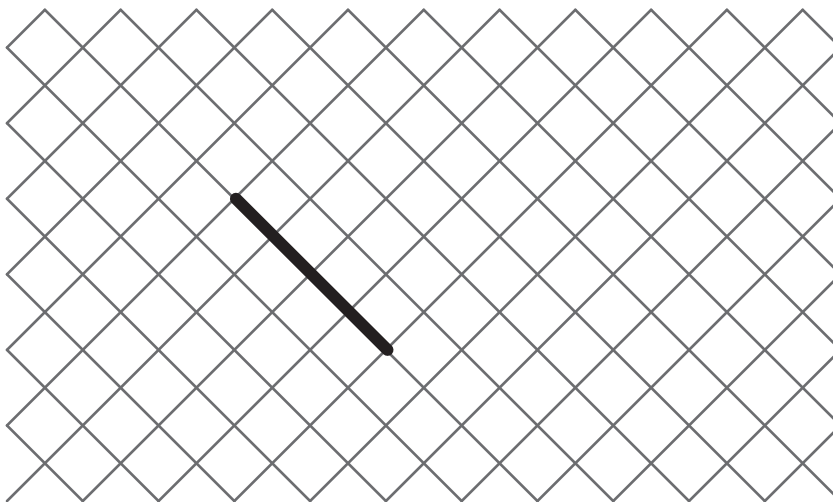
c) Колко прави ъгъла има фигурата?

Отговор: .....

MI MF MS TBM

### EXERCICE 17

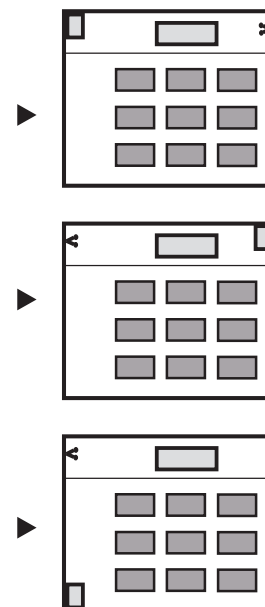

Начертайте квадрат като започнете от страната, вече начертана.



MI MF MS TBM

### EXERCICE 18

Очертай с кръгче плана, отговарящ на рисунката.



MI MF MS TBM



---

### EXERCICE 19

Начертайте кръг от център А, който минава през център В.

× **B**

× **A**

MI


MF

MS

TBM

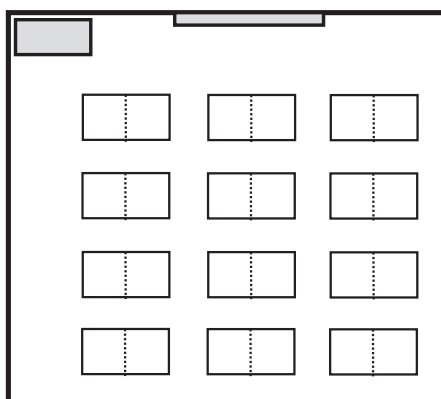
## EXERCICE 20

Разгледай снимката на този клас.



а) по отношение на цвета :

- в червено: дъската
- в зелено: чина на Люк
- в синьо: чина на Ана



б) Кой е седнал тук?  
(Очертай с кръгче верния отговор)

- Люк
- Катрин
- Ана
- Пиер

