

ÉVALUATION DIAGNOSTIQUE
DES ÉLÈVES ALLOPHONES

Mathématiques

FIN DE CYCLE 2

Langue d'origine : albanais

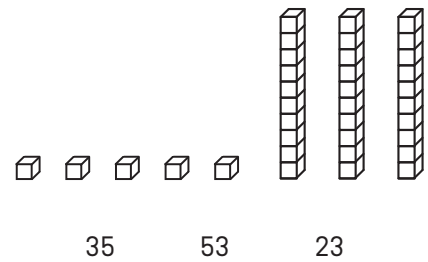
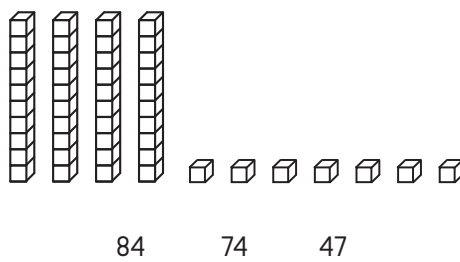
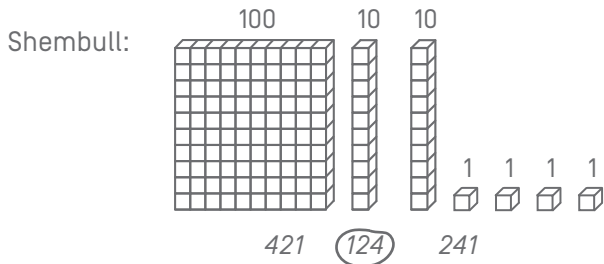
MBIEMRI:

EMRI:

Matériel nécessaire : crayon, gomme, règle graduée, équerre, compas.

EXERCICE 1

Rretho numrin që korrespondon, si për shembull:



MI

MF

MS

TBM

EXERCICES 2 ET 3

Lexo shtjellimin e problemit dhe rretho përgjigjen e saktë:

EX. 2

Tomi ka 14 topa të kuq dhe 16 topa blu.
Sa topa ka ai gjithsej?

16 - 14

14 + 14

16 + 14

16 + 16

MI

MF

MS

TBM

EX. 3

Në klasë ka 29 nxënës. 15 nxënës janë djem.
Sa janë vajza?

29 - 15

15 + 29

29 + 15

29 × 15

MI

MF

MS

TBM

EXERCICE 4

Plotëso:

Shembull: $124 = 100 + 20 + 4$

$382 = \dots + \dots + \dots$

$\dots = 500 + 80 + 2$

$\dots = 8 + 700 + 10$

MI MF MS TBM

EXERCICE 5

Llogarit:

$48 + 31 =$

$$\begin{array}{r} 166 \\ + 254 \\ \hline \end{array}$$

MI MF MS TBM

EXERCICE 6

Plotëso vijimin e numrave:

150	140	130	50
-----	-----	-----	-------	-------	-------	-------	-------	-------	-------	----

MI MF MS TBM

EXERCICE 7

Rendit nga numri më i vogël deri në numrin më të madh:

152 2 14 7 125 41 20

.....
-------	-------	-------	-------	-------	-------	-------

MI MF MS TBM

EXERCICE 8

Llogarit:

$$\begin{array}{r} 87 \\ - 52 \\ \hline \end{array}$$

$$\begin{array}{r} 512 \\ - 139 \\ \hline \end{array}$$

MI MF MS TBM

EXERCICE 9

Llogarit:

$$\begin{array}{r} 32 \\ \times 4 \\ \hline \end{array}$$

$$\begin{array}{r} 75 \\ \times 3 \\ \hline \end{array}$$

MI MF MS TBM

EXERCICE 10

Lexo shtjellimin e problemit dhe gjej përgjigjen:

a) Në klasë, ka 26 nxënës. Mësuesja i jep çdo nxënësi 4 libra.
Sa libra jep ajo gjithsej?

Përgjigje:


b) Ndajmë 32 letra midis 4 lojtarëve.
Sa letra ka çdo lojtar?

Përgjigje:

MI MF MS TBM

EXERCICE 11

Mat gjatësinë e BC.



Përgjigje:

MI MF MS TBM

EXERCICE 12

Vizato një segment të gjatë prej 7 cm, duke u nisur nga pika:



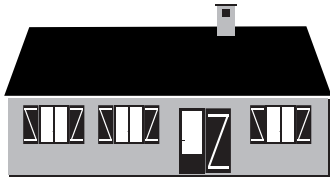
MI MF MS TBM

EXERCICE 13

Rretho përgjigjen e saktë:

Gjatësia e shtëpisë është:

- 15 kilogramë
- 15 metra
- 15 litra




Shishja përmban:

- 1 kilometër
- 1 litër
- 1 orë



Lopa peshon:

- 800 metra
- 800 orë
- 800 kilogramë



Ora tregon:

- 10 litra
- 10 euro
- ora 10



MI

MF

MS

TBM

EXERCICE 14

Plotëso barazimet:

4 vjeç = muaj

120 min = orë

1 kg = g

1 min = sek.

1 orë = min

1 m = cm

1 km = m

1 l = cl

30 m = cm

MI

MF

MS

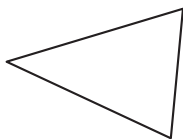
TBM

EXERCICE 15

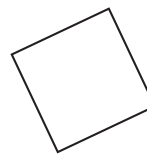
Rretho emrin e çdo figure.



- rreth
- katror
- drejtkëndësh
- trekëndësh



- kub
- trekëndësh
- drejtkëndësh
- rreth

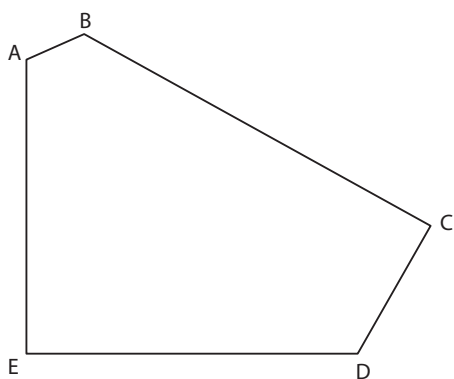


- trekëndësh kënddrejtë
- rreth
- katror
- trekëndësh

MI MF MS TBM

EXERCICE 16

Vrojto figurën e plotë:



a) Sa kënde ka kjo figurë?

Përgjigje:

b) Sa kulme ka kjo figurë?

Përgjigje:

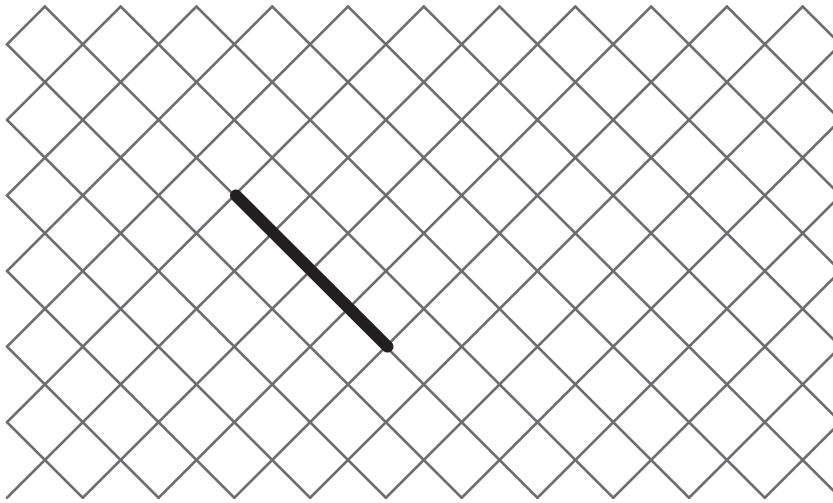
c) Sa kënde të drejta ka kjo figurë?

Përgjigje:

MI MF MS TBM

EXERCICE 17

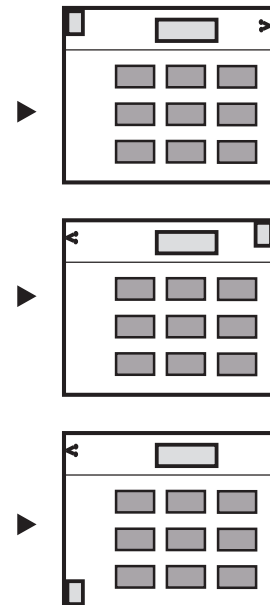

Vizato një katror duke u nisur nga këndi i vizatuar tashmë.



MI MF MS TBM

EXERCICE 18

Rretho planin që i korrespondon vizatimit.



MI MF MS TBM

EXERCICE 19

Vizato një rreth të qendrës A që kalon nga B.

× **B**

× **A**

MI


MF

MS

TBM

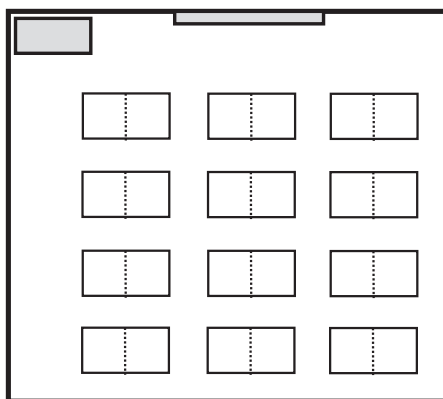
EXERCICE 20

Vrojto vizatimin e kësaj klase.



a) Në plan, ngjyros:

- me të kuqe: tabelën
- me jeshile: zyrën e Lykut
- me blu: tavolinën e Anës



b) Kush është ulur këtu?
[Rretho përgjigjen e saktë]

- Lyku
- Katrina
- Ana
- Pierre

